




INVESTICE DO ROZVOJE VZDĚLÁVÁNÍ

Identifikátor materiálu	EU: ICT – 3 – 41
Anotace	Žák se seznámí s pojmem zámořské objevy, získá základní informace.
Autor	Mgr. Blanka Šteindlerová
Jazyk	Čeština
Vzdělávací oblast	Člověk a společnost
Vzdělávací obor	Dějepis
ICT = Předmět/téma	Dějepis/Novověk
Očekávaný výstup	Žák zná příčiny, podmínky, základní události a osobnosti zámořských objevů v 15. a 16. století.
Speciální vzdělávací potřeby	- zdravotní postižení - LMP
Klíčová slova	zámořské objevy, Evropa, Afrika, Asie, příčina, podmínka, mořeplavec, objevitel
Druh učebního materiálu	Prezentace
Druh interaktivity	Kombinace
Cílová skupina	Žák
Stupeň a typ vzdělávání	základní vzdělávání – druhý stupeň
Typická věková skupina	13 - 14 let / 8. ročník
Období tvorby DUM	10/2012

ZÁMOŘSKÉ OBJEVY

NOVOVĚK



CO JSOU ZÁMOŘSKÉ OBJEVY

- ❖ Lidé se plavili na kratší či delší vzdálenosti již ve starověku, podle toho, jak jim to umožnil technický pokrok, tedy jaké lodě byli schopni postavit.
- ❖ Nejčastěji se ale mluví o zámořských objevech na konci středověku a začátku novověku, od poloviny 15. do konce 16. století.

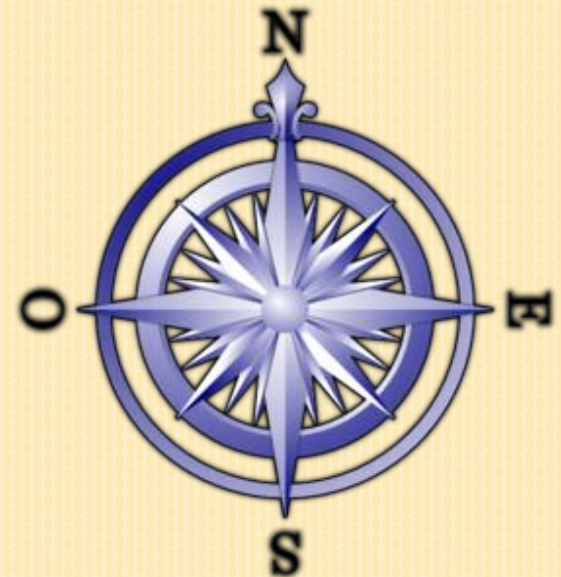
PŘÍČINY ZÁMOŘSKÝCH OBJEVŮ

- ❖ Na přelomu 13. a 14. st. vznikla v Asii Osmanská říše. Její turecká vojska ohrožovala Evropu, když postupovala směrem na západ. Válka s Turky omezila obchod s Asií po souši. Proto panovníci podporovali hledání nových cest do Asie.
- ❖ V Evropě se projevil nedostatek zlata a stříbra.
- ❖ Obchodníci hledali nový odbyt pro své zboží.
- ❖ Zvýšila se poptávka po luxusním zboží.

PODMÍNKY ZÁMOŘSKÝCH OBJEVŮ

- ❖ Evropané začali stavět větší a kvalitnější lodě, ve velké míře používali plachty.
- ❖ Námořníci se mohli spolehnout na lepší navigační pomůcky (kompas a astroláb jim pomáhali nezabloudit).

KOMPAS



PODMÍNKY ZÁMOŘSKÝCH OBJEVŮ

- ❖ Změnil se pohled lidí na Zemi. Lidé začínali věřit faktu, že Země má tvar koule a plavby mohly tento názor potvrdit nebo vyvrátit.



KTERÉ ZEMĚ PODPOROVALY DALEKÉ CESTY PO MOŘI

Nejprve podnikali námořní výpravy námořníci

- ❖ *Itálie* – kupci z přístavů Janov a Benátky hledali cestu do Indie kolem břehů Afriky
- ❖ *Portugalska*
- ❖ *Španělska* – oba tyto státy měly velké loďstvo

Později se připojili mořeplavci a objevitelé

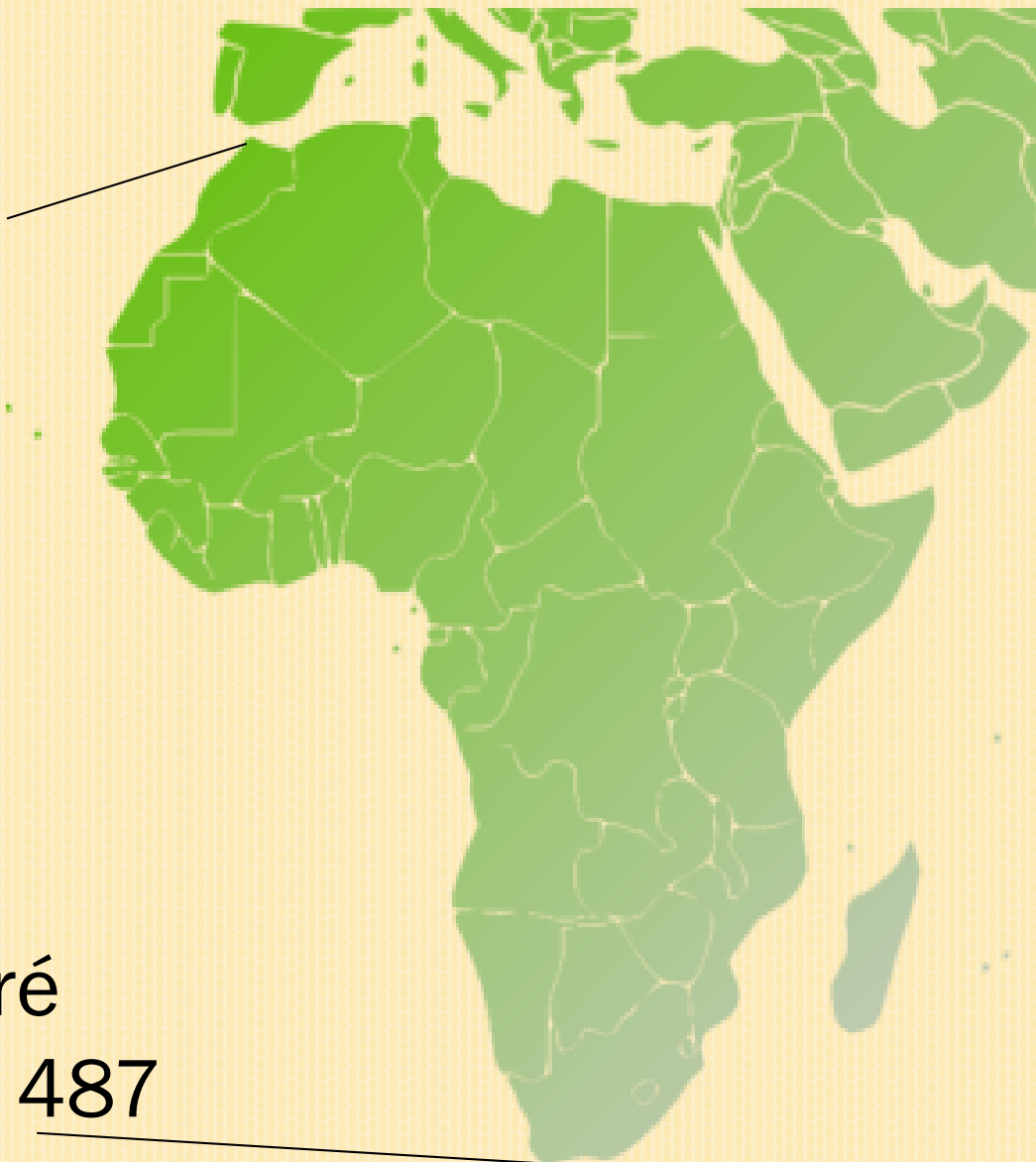
- ❖ *Nizozemí*
- ❖ *Anglie*
- ❖ *Francie*

NEJVÝZNAMNĚJŠÍ ZÁMOŘSKÉ CESTY A OBJEVY

- ❖ **1 415** Portugalec Jindřich Mořeplavec dobyl město Ceuta v severní Africe
- ❖ **1 487** Portugalec Bartolomeo Diaz objevil mys Dobré naděje
- ❖ **1 497** Portugalec Vasco de Gama obeplul Afriku a doplul do Indie

AFRIKA

Ceuta
1 415



mys Dobré
naděje 1 487

NEJVÝZNAMNĚJŠÍ ZÁMOŘSKÉ CESTY A OBJEVY

- ❖ **1 492** při putování za novými cestami po moři objevil Ital Kryštof Kolumbus pro Evropu neznámý světadíl. Do své smrti ale nevěděl, že objevil cestu k novému dílu světa a věřil, že doplul do Indie
- ❖ **1 497** Ital Amerigo Vespucci objevil další kus nové pevniny – jižní cíp Severní Ameriky
- ❖ Nový světadíl byl nazván po Amerigovi **Amerika**



1. Vasco de Gama obeplul Afriku a doplul do Indie
2. Kolumbus doplul k novému kontinentu



Kryštof Kolumbus

POKUSTE SE SPOLEČNĚ ODPOVÍDAT

- ❖ O jakém období se mluví nejčastěji v souvislosti se zámořskými objevy?
 - Období od poloviny 15. do konce 16. století.
- ❖ Jaké byly příčiny velkého zájmu o nové námořní cesty?
 - Cesta do Asie po souši byla blokována Turky.
 - Zvýšila se poptávka po drahých kovech a luxusním zboží.
 - Kupci hledali nové trhy pro své zboží.

POKUSTE SE SPOLEČNĚ ODPOVÍDAT

- ❖ Co umožnilo rozvoj námořní dopravy?
 - Stavěly se lepší lodě a díky kompasu se námořníci líp orientovali.
- ❖ Které státy byly z hlediska objevných cest nejaktivnější?
 - Itálie, Portugalsko, Španělsko, později také Nizozemí, Anglie a Francie.

POKUSTE SE SPOLEČNĚ ODPOVÍDAT

- ❖ Vzpomenete si na významné objevné plavby?
 - 1 487 – Bartolomeo Diaz – mys Dobré naděje
 - 1 492 – Kryštof Kolumbus – objevení Ameriky
 - 1 497 – Vasco de Gama – obeplutí Afriky
 - 1 497 – Amerigo Vespucci – objev jižního cípu Severní Ameriky

ZDROJE:

Uveřejněné odkazy [cit. 2012-10-14]. Dostupné pod licencí Clker, Wikipedia, Wikimedia, Public domain na WWW:

Koráb: <http://www.clker.com/clipart-9585.html> >

Kompas: <http://www.clker.com/clipart-blue-compass.html> >

Zeměkoule: <http://www.clker.com/clipart-globe-east.html> >

Afrika: <http://www.clker.com/clipart-wesley.html> >

Kolumbus: :http://cs.wikipedia.org/wiki/Soubor:Christopher_Columbus.PNG >

Mapa světa: <http://www.publicdomainpictures.net/view-image.php?image=22073&picture=mapa-sveta> >